

NOM : _____ Prénom : _____

Histoire & Géographie

-	Signature des parents	/25
---	--------------------------	-----

Important :

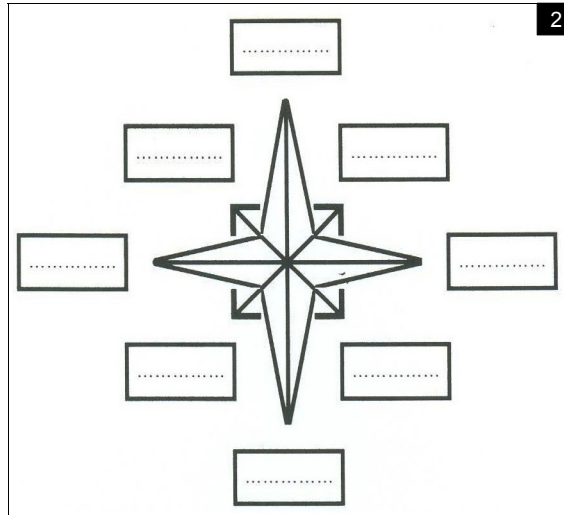
- Un point peut-être soustrait si, à la vérification du cahier, la signature est absente.
- Rédige tes réponses : l'évaluation de la rédaction est comprise dans chacune de tes réponses.

1 JE SUIS CAPABLE DE :

A. me situer : (5 pts)

1

Points cardinaux	Adjectif correspondant
NORD	
SUD	
EST	
OUEST	



→ **Doc.1 :**

- 1) Chaque point cardinal à un adjectif qui lui correspond . (2 pts)
 Inscris dans le tableau : Septentrional / Oriental / Méridional / Occidental

→ **Doc. 2**

- 2) Comment se nomme cette représentation ? (1 pt)
-
-

- 3) Écrire en rouge : Nord / Sud / Ouest / Est (1 pt)

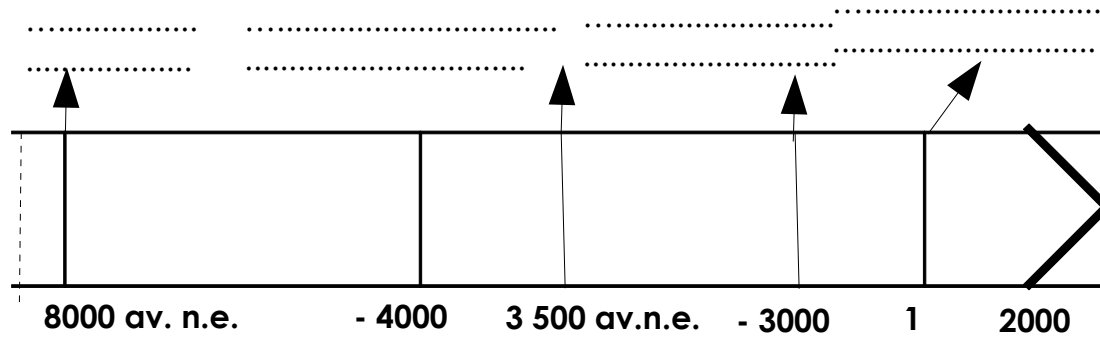
- 4) Écrire en noir NO / NE/ SE/ SO (1 pt)

(soit : Nord-Ouest / Nord-Est / Sud-Est/ Sud-Ouest)

B. situer dans le temps : (6 pts)

3

TITRE :



Consignes :

- 1) Comment se nomme ce type de document : (1 pt)
-
-

- 2) Sur la frise, situe les évènements suivants sur les pointillés : apparition de la **ville d'UR** / la **naissance de l'agriculture** / la **naissance de Jésus Christ** / la **naissance de l'écriture** (2 pts)

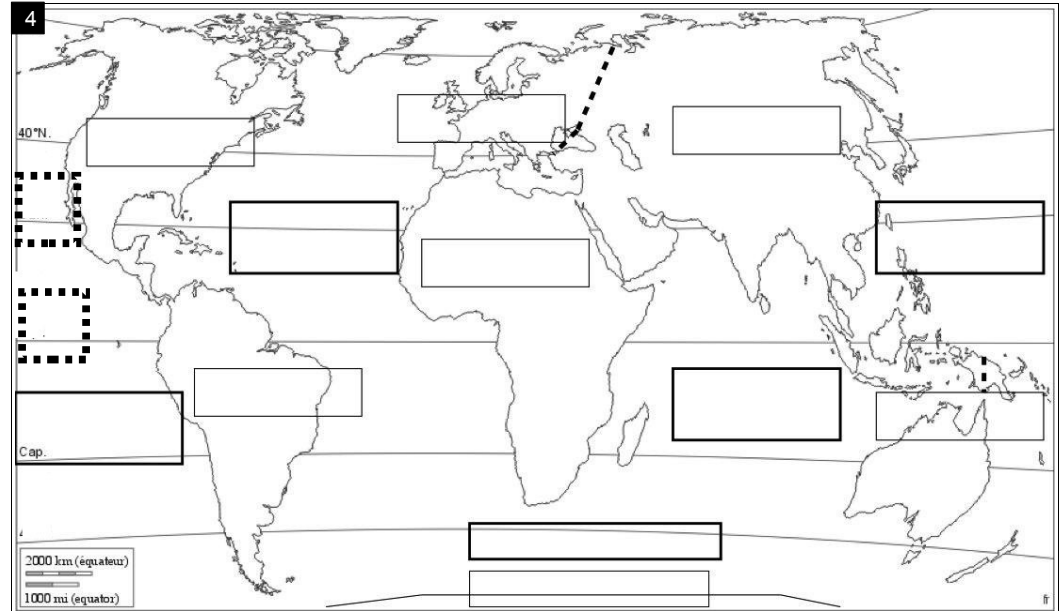
- 3) Situe sur la frise les périodes suivantes : (2 pts)

- colorie **en bleu** la période qui correspond à la **Préhistoire** .
- colorie **en rouge** la période qui correspond à **l'Histoire** .


- 4) Trouve un titre à cette frise. (1 pt)

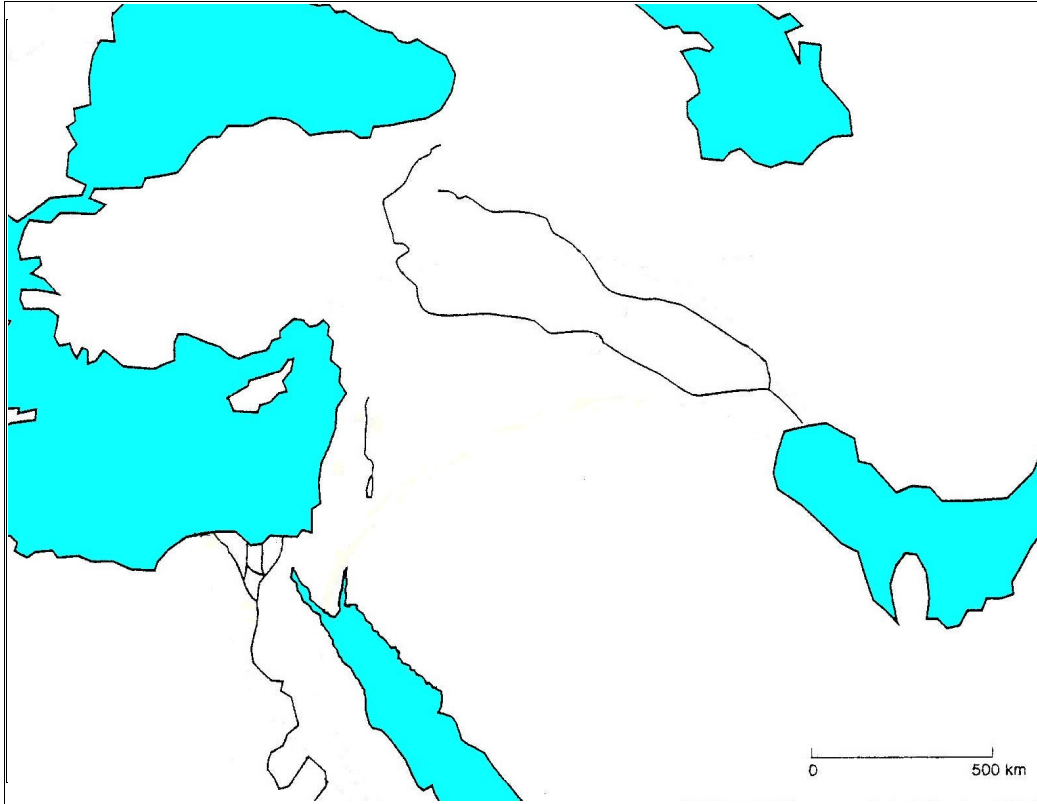
C. situer dans l'espace (11 pts)

4



→ **Sur le planisphère.**

- 1) Nomme en **bleu** les **océans** (2 pts)
- 2) Écris le nom des continents en noir. (1,5 pts)
- 3) Reporte les numéros correspondant aux lignes imaginaires sur le document () (1)
 1. tropique du capricorne ; 2. tropique du cancer ; 3. équateur



→ **Sur le fond de carte de l'Orient ancien**

- 1) Reporte sur ce croquis le **numéro** de ces éléments : (3 pts)

1. Méditerranée	4. Nil
2. Golfe Persique	5. la Mésopotamie
3. Euphrate	6. Égypte,

2) Situe d'un point noir la ville d'UR. (1 pt)

3) Qu'appelle-t-on le « Croissant fertile » ? (2 pts)

.....

.....

.....

.....

.....

QUESTION OUVERTE 3 pts (& jusqu'à trois points de bonus selon la qualité de ton paragraphe)

Choisis l'**un de ces sujets**.

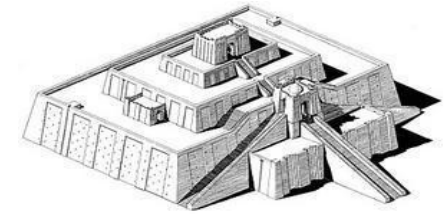
Veille à rédiger ton paragraphe de sorte qu'une personne qui ne connaît pas la question que tu as choisie puisse comprendre le sujet.

(HISTOIRE)

- 1) Comment **l'écriture** est-elle apparue et a-t-elle évolué ?
- 2) Décrire la **ziggourat** et préciser sa fonction (à quoi elle sert).

(GÉOGRAPHIE)

- 3) Rédige un petit paragraphe **situant ton collège à différentes échelles**.



GRILLE DE COMPÉTENCES DISCIPLINAIRES EN HISTOIRE / GÉOGRAPHIE

COMPÉTENCES DISCIPLINAIRES		A	CA	NA	Évolution
Restituer des connaissances	Connaître les définitions				
	Connaître les repères : se situer dans le temps				
	Connaître les repères : se situer dans l' espace				
Réutiliser les compétences	Lire et compléter une légende				
	Lire et compléter une chronologie				
réaliser	Rédiger des réponses correctes, logiques et lisibles.				
	Rédiger une explication supérieur à 5 lignes				

A : acquis CA : en cours d'acquisition NA: non acquis