

NOM :

Prénom :

# Histoire & Géographie

Signature  
des parents

/25

### Important :

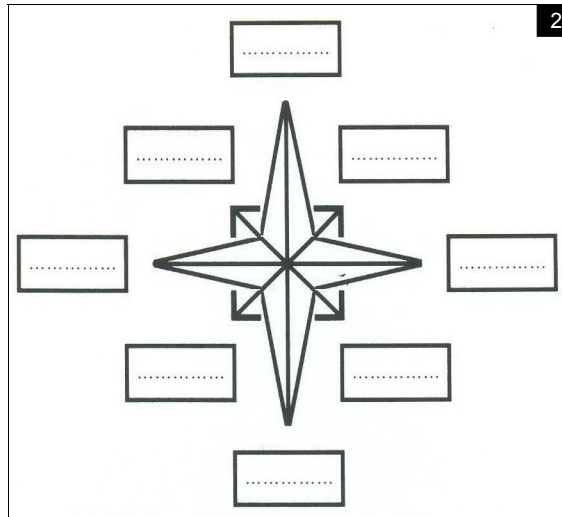
- Un point peut-être soustrait si, à la vérification du cahier, la signature est absente.
- Rédige tes réponses : l'évaluation de la rédaction est comprise dans chacune de tes réponses.

## 1 JE SUIS CAPABLE DE :

### A. me situer : (5 pts)

1

Points cardinaux	Adjectif correspondant
NORD	
SUD	
EST	
OUEST	



2

→ Doc.1 :

1) Chaque point cardinal à un adjectif qui lui correspond . (2 pts)

Inscris dans le tableau : Septentrional / Oriental / Méridional / Occidental

→ Doc. 2

2) Comment se nomme cette représentation ? (1 pt)

3) Écrire en rouge : Nord / Sud / Ouest / Est (1 pt)

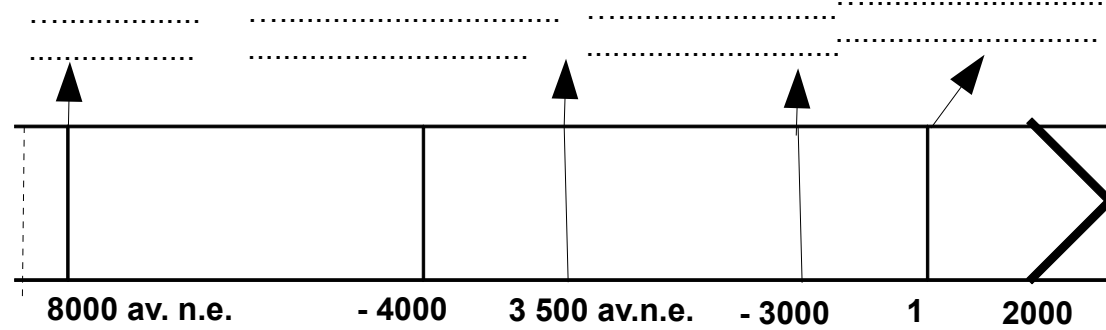
4) Écrire en noir NO / NE/ SE/ SO (1 pt)

(soit : Nord-Ouest / Nord-Est / Sud-Est/ Sud-Ouest)

## B. situer dans le temps : (6 pts)

3

TITRE : .....



### Consignes :

1) Comment se nomme ce type de document : (1 pt)

2) Sur la frise, situe les événements suivants sur les pointillés : apparition de la ville d'UR / la naissance de l'agriculture / la naissance de Jésus Christ / la naissance de l'écriture (2 pts)

3) Situe sur la frise les périodes suivantes : (2 pts)

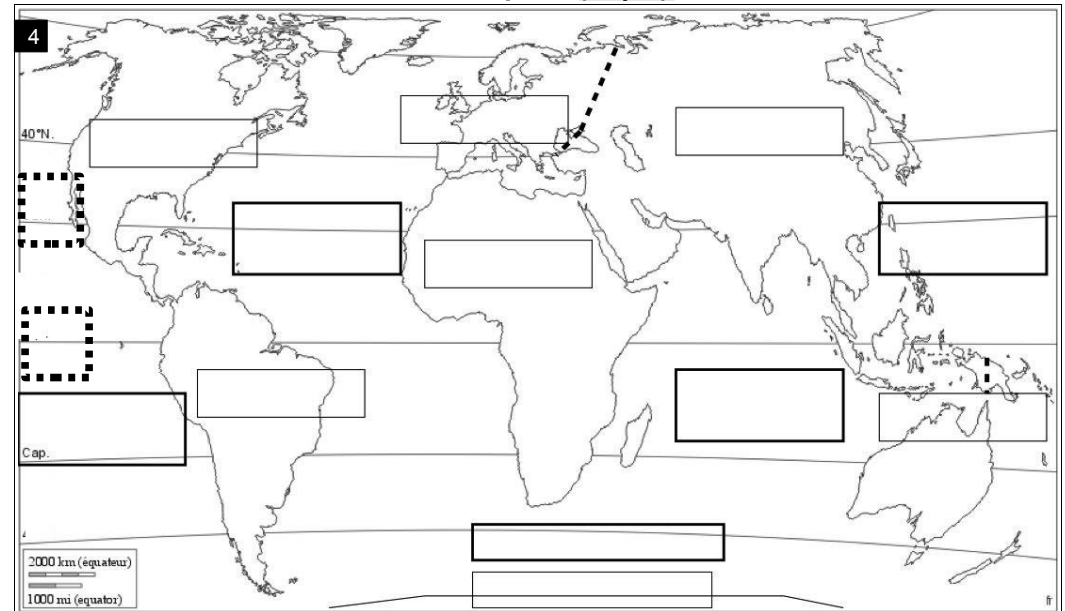
- colorie en bleu la période qui correspond à la Préhistoire .

- colorie en rouge la période qui correspond à l'Histoire .

4) Trouve un titre à cette frise. (1 pt)

## C. situer dans l'espace (11 pts)


4

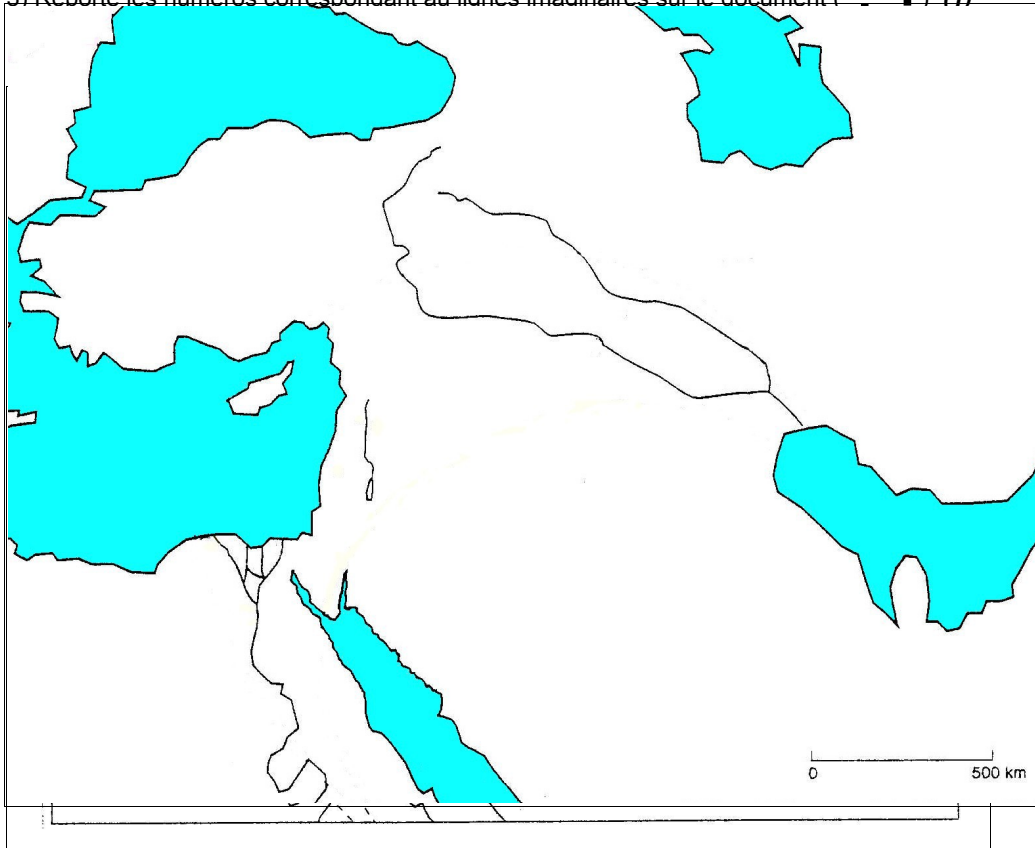


→ **Sur le planisphère.**

1) Nomme en **bleu** les **océans** (2 pts)

2) Écris le nom des continents en noir. (1,5 pts)

3) Reporte les numéros correspondant aux lignes imaginaires sur le document (  ) (1)



→ **Sur le fond de carte de l'Orient ancien**

1) Reporte sur ce croquis le **numéro** de ces éléments : (3 pts)

- |                   |                   |
|-------------------|-------------------|
| 1. Méditerranée   | 4. Nil            |
| 2. Golfe Persique | 5. la Mésopotamie |
| 3. Euphrate       | 6. Égypte,        |

2) Situe d'un point noir la ville d'UR. (1 pt)

3) Qu'appelle-t-on le « Croissant fertile » ? (2 pts)

.....

.....

.....

.....

.....

❶ **QUESTION OUVERTE 3 pts** ( & jusqu'à trois points de bonus selon la qualité de ton paragraphe )

Choisis l'un de ces sujets.

Veille à rédiger ton paragraphe de sorte qu'une personne qui ne connaît pas la question que tu as choisie puisse comprendre le sujet.

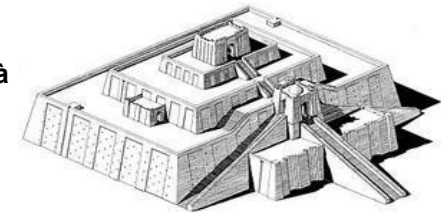
**(HISTOIRE)**

1) Comment **l'écriture** est-elle apparue et a-t-elle évolué ?

2) Décrire la **ziggourat** et préciser sa fonction (à quoi elle sert).

**(GÉOGRAPHIE)**

3) Rédige un petit paragraphe **situant ton collège à différentes échelles**.



**GRILLE DE COMPÉTENCES DISCIPLINAIRES EN HISTOIRE / GÉOGRAPHIE**

COMPÉTENCES DISCIPLINAIRES		A	CA	NA	Évolution
Restituer des connaissances	Connaître les <b>définitions</b>				
	Connaître les repères : se situer dans le <b>temps</b>				
	Connaître les repères : se situer dans l' <b>espace</b>				
Réutiliser les compétences	Lire et compléter une <b>légende</b>				
	Lire et compléter une <b>chronologie</b>				
réaliser	<b>Rédiger des réponses</b> correctes, logiques et lisibles.				
	Rédiger une <b>explication supérieure à 5 lignes</b>				

A : acquis CA : en cours d'acquisition NA : non acquis