

Fiche n°4 : L'EMPEREUR : HÉROS, HÉRITIER DE LA RÉPUBLIQUE, OU TYRAN ?

d'après M. Desmares, les Clionautes

CONSIGNES :

- travail en groupe.
- Après avoir répondu à l'ensemble des questions, rédiger un paragraphe qui reprenne l'ensemble de vos réponses.

FICHE 4

INTRODUCTION :

A. AUGUSTE* , 1^{ER} EMPEREUR (27 av.ne. - 14 ap.ne.)

(EX.1) : de la république à l'empire :
COMMENT OCTAVE devient-il AUGUSTE, 1^{er} EMPEREUR romain ?

1. L'ASCENSION D'OCTAVE (ou AUGUSTE)

Après l'assassinat de **CÉSAR** éclate une guerre civile entre les partisans de son fils adoptif, **OCTAVE** et ceux de ses rivaux, notamment Antoine. **OCTAVE** sort vainqueur de cet affrontement et parvient au pouvoir.

En **27 avant ne.**, il crée un nouveau régime: l'empire, appelé aussi le **PRINCIPAT**. Premier empereur romain, il réorganise l'armée, qui devient une armée de métier, réforme l'administration des provinces et embellit Rome.


Biographie d'Octave Auguste (63 avant J.-C.- 14 après notre ère)

2. AUGUSTE SE FAIT ACCEPTER

Quand **AUGUSTE** eut séduit les soldats par des dons généreux, le peuple par des distributions de blé, tout le monde par les douceurs de la paix, il commença à s'élever et à attirer à lui l'autorité du Sénat et des magistrats.

D'après Tacite, Annales, II^e siècle ap. n.è.

5. CHRONOLOGIE



3. D'OCTAVE à AUGUSTE

4. AUGUSTE concentre tous les pouvoirs de la République

Tous les **pouvoirs du Sénat et du peuple** passèrent à Auguste, et à partir de ce moment une véritable monarchie fut établie, même si, encore maintenant, on nomme aux magistratures selon les lois.

D'après Dion Cassius, Histoire Romaine, I^{er}, II s. ap.ne.

QUESTIONS :

- 1) A quel(s) personnage(s) **Octave** est-il lié ?
- 2) Surligne dans le **doc.2** de qui **Octave** a le soutien puis explique pourquoi.
- 3) Surligne dans le **doc.1** pourquoi et comment **Octave** prend le nom d'**Auguste**.
- 4) A quoi est comparé **Auguste** ? Pourquoi ?
- 5) **Entoure en rouge** les autres éléments qui permettent d'expliquer **comment Octave de devient empereur**.
- 6) **doc.5** : Quel est le **nom de la dynastie d'Auguste** ?
- 7) Comment peut-on **expliquer** ce nom ?

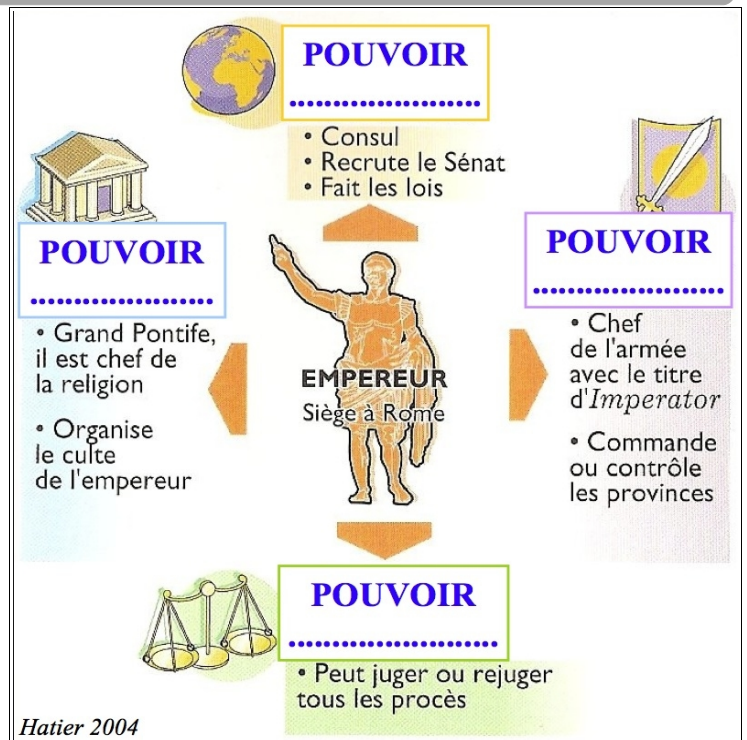
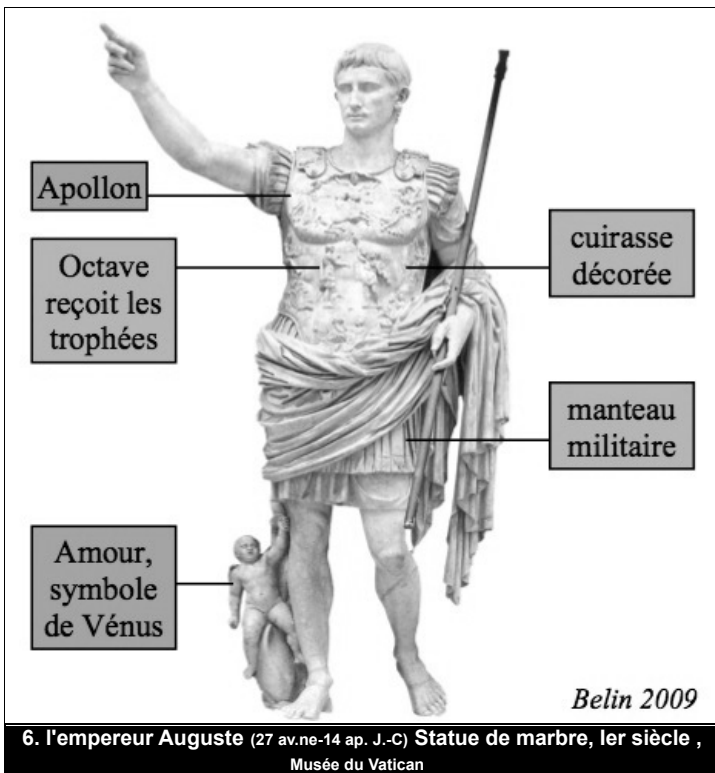
RÉDIGER

RACONTER COMMENT AUGUSTE DEVIENT-IL LE PREMIER EMPEREUR ROMAIN ?

I. COMMENT SE CARACTÉRISE LE POUVOIR IMPÉRIAL ?

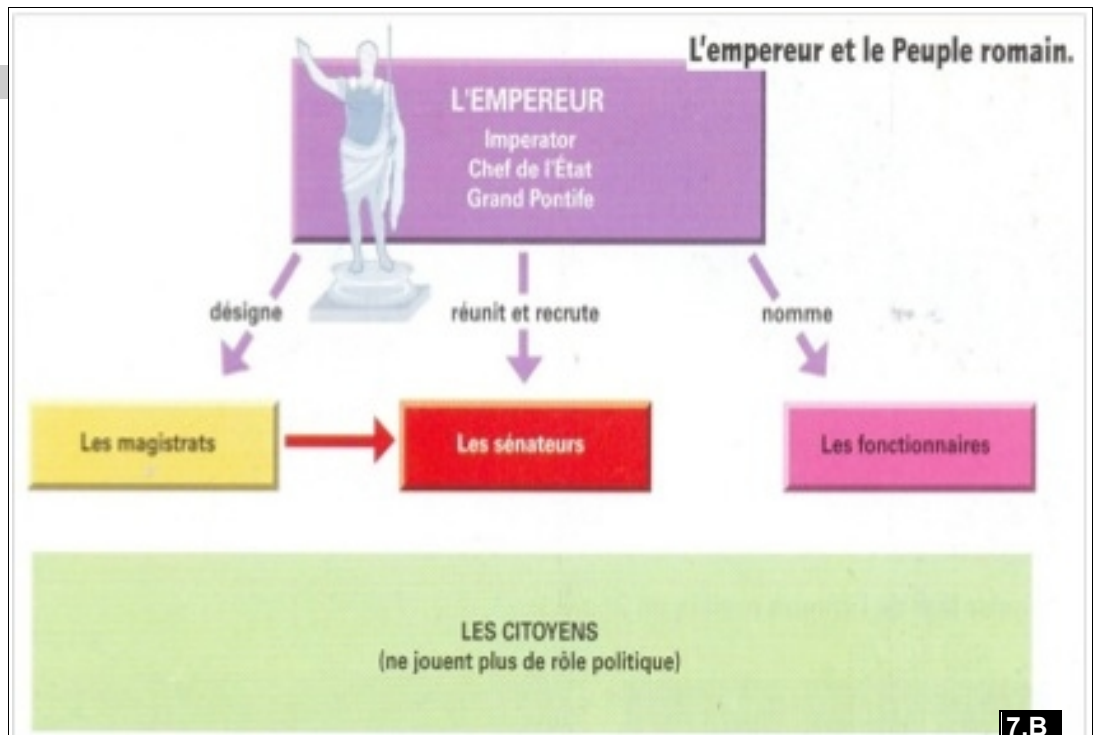
(EX.2)

A. QUELS SONT LES POUVOIRS DE L'EMPEREUR ?



QUESTIONS :

- 1) doc.6 : Colorie en rouge les éléments qui indiquent le pouvoir militaire d'Auguste. En bleu colorie les éléments qui indiquent le pouvoir religieux d'Auguste.
- 2) doc. 7.a : Nomme les différents pouvoirs de l'empereur.
- 3) doc.7.b : Quel est le rôle politique du peuple ? doc.8 :
- 4) Entoure en Bleu l'empereur.
- 5) Comment l'Empereur est-il considéré par les romains ?
- 6) Expliquer pourquoi cela renforce son pouvoir.



7.A les pouvoirs de l'Empereur

RÉDIGER

QUELS SONT LES POUVOIRS DE L'EMPEREUR ?




8. UN EMPEREUR DIVINISÉ à qui l'on loue un **CULTE IMPÉRIAL** : *Gemma augustea* v. 10 ap. n.e. (de Dioscurides ?)

9. À LA TÊTE D'UN EMPIRE TERRITORIAL ...UN EMPEREUR



- L'Empire à la mort d'Auguste (14 apr. J.-C.)
 - L'Italie divisée en régions
- Limites des provinces à la mort d'Auguste
 - Provinces annexées de la mort d'Auguste à l'avènement de Trajan (98 apr. J.-C.)
- Conquêtes de Trajan (98-117 apr. J.-C.)
 - Limes


(ex.3) B. COMMENT ET POURQUOI REPRÉSENTER LES POUVOIRS DE L'EMPEREUR ?
L'EXEMPLE DE TRAJAN (98-117)



11.a les *alimenta*, bas-relief de l'arc de Trajan (114 ap. n.e.)



11.b l'arc de triomphe de Trajan (Timgad -Algérie-)



www.lahautsurlacolline.net

12. La colonne trajane, I^{er} siècle
Edifiée sur le forum de Trajan, elle était surmontée d'une statue de l'empereur : l'ensemble mesurait 40 mètres.
Elle est décorée d'une frise de 200 mètres de long qui s'enroule en spirale et qui commémore la victoire de Trajan sur les Daces.



www.wikipedia.org

QUESTIONS :

- 1) doc. 9 : Expliquer pourquoi l'empereur Trajan est un empereur important.
- 2) doc. 10 : Colorie : en rouge les victoires militaires de l'Empereur ; en vert ses pouvoirs politiques ; en bleu ses pouvoirs religieux.
- 3) docs 11 : Qu'est-ce que l'empereur Trajan fait distribuer ici ? A qui ?
- 4) docs 11 : Qu'est-ce qu'un "arc de triomphe" ? Trouver une définition après avoir décrit ce monument.
- 5) docs 9 & 12 : Quels aspects du règne de Trajan illustre la colonne trajane ?

RÉDIGER

A. DE QUELLE MANIÈRE L'EMPEREUR SE FAIT-IL CONNAÎTRE PAR LES HABITANS DE L'EMPIRE ?

B. QUELS ÉLÉMENTS DE SON RÈGNE MET-IL EN AVANT ?

C. EN QUOI LA DIFFUSION DE CES INFORMATIONS EST-ELLE IMPORTANTE POUR RENFORCER SON AUTORITÉ ?

