

Fiche n°5 : LA PAX ROMANA , L'EMPIRE À SON APOGÉE ?

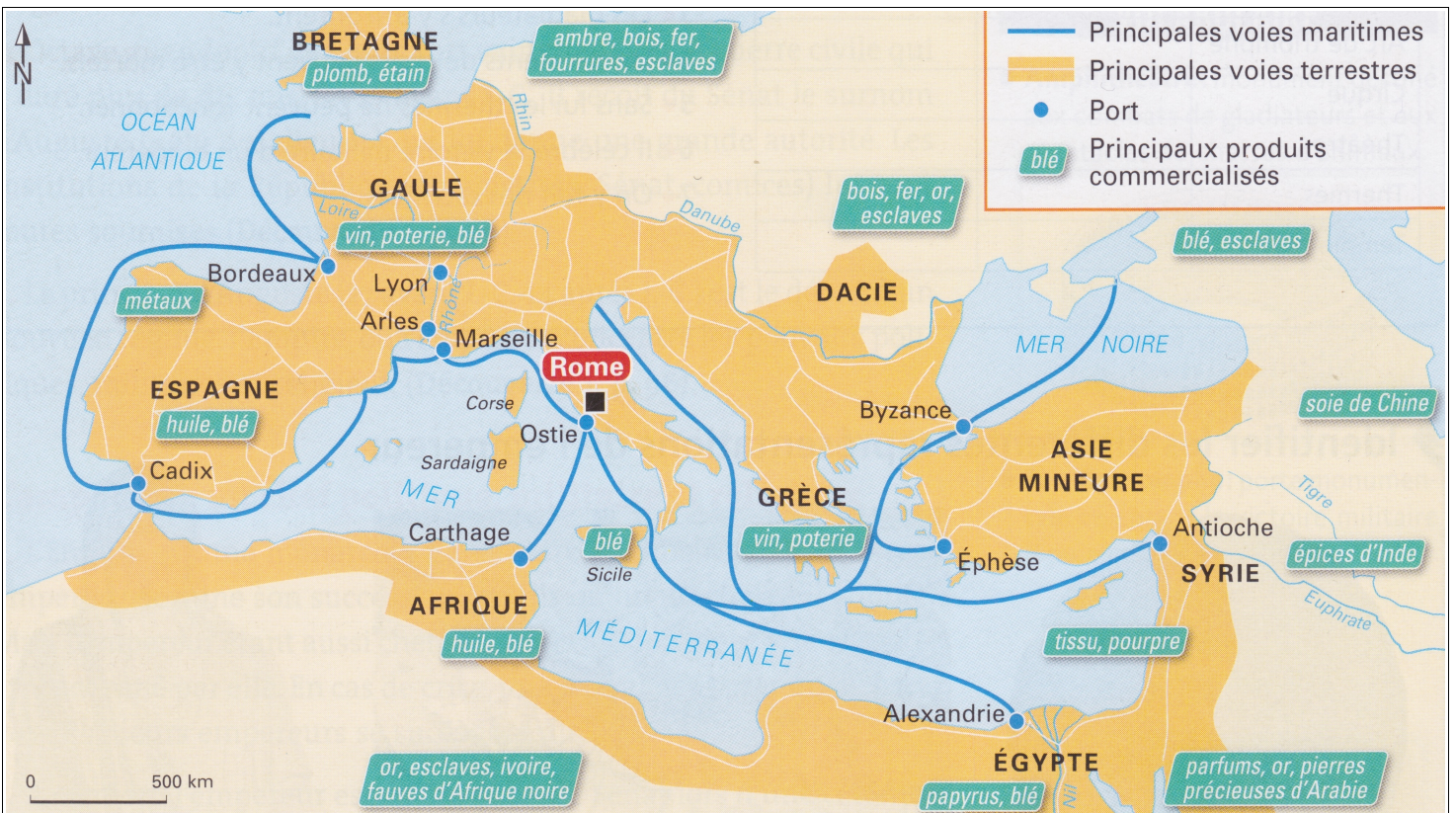
II. POURQUOI LA PAX ROMANA EST-ELLE LA PÉRIODE LA PLUS PROSÈRE DE L'EMPIRE ?

A. POURQUOI LA PAX ROMANA EST-ELLE UNE PÉRIODE PROPICE AU COMMERCE ?

1 « Paix romaine » et prospérité économique

Aux 1<sup>er</sup> et 2<sup>e</sup> siècles, les conditions de la prospérité économique et du développement du commerce sont réunies. La paix assure la sécurité de la production et des échanges. Les provinces sont mieux gérées par les gouverneurs. Les empereurs favorisent les échanges et jouent un rôle important dans l'économie: ils sont propriétaires d'immenses domaines agricoles, sont chargés du ravitaillement de Rome et des armées, de l'émission de la monnaie et du développement des voies de communication. L'agriculture se développe en Gaule, en Espagne et en Afrique.

D'après Martin Colas, *Le monde romain*, Armand Colin, 2007.



3 Le commerce dans l'Empire romain au III<sup>e</sup> siècle

4



## 5 L'organisation du ravitaillement de Rome

Le territoire romain et l'Italie ne suffisent pas à nourrir Rome. Auguste crée une administration chargée d'assurer un arrivage régulier en céréales, vins et huile d'olive essentiellement. Cela supposait de passer des contrats avec des transporteurs. Les provinces d'Afrique et d'Égypte fournissent progressivement la plus grande partie de ces produits, mais la Sicile, la Sardaigne ou la Narbonnaise<sup>1</sup> apportent aussi leur part. L'empereur Claude décida d'installer un port à Ostie disposant de greniers et de bureaux. L'empereur Trajan y inaugura un deuxième port doté de bassins, d'entrepôts et de monuments publics. À cela s'ajoute un incessant va-et-vient de barques sur le Tibre entre Ostie et Rome.

D'après Patrick Leroux, *Le Haut-Empire romain en Occident d'Auguste aux Sévères*, Point-Histoire, Seuil, 1998.

1. Province romaine du sud de la Gaule.

### QUESTIONS :

- 1) **Qu'est-ce que la *pax romana* ? (date, caractéristiques, etc.)**  
**Pourquoi cette période est-elle favorable au commerce ?**
- 2) **D'un point de vue commercial, en quoi est-ce intéressant pour Rome d'être à la tête d'un empire ?**
- 3) **Pourquoi selon vous les empereurs interviennent-ils pour le ravitaillement de Rome ?**

### RÉDIGER

**Expliquer pourquoi la période de la pax romana est une période prospère.**

## II. POURQUOI LA PAX ROMANA EST-ELLE LA PÉRIODE LA PLUS PROSÈRE DE L'EMPIRE ?

### B. COMMENT S'ORGANISE L'EMPIRE DURANT LA PAX ROMANA ?



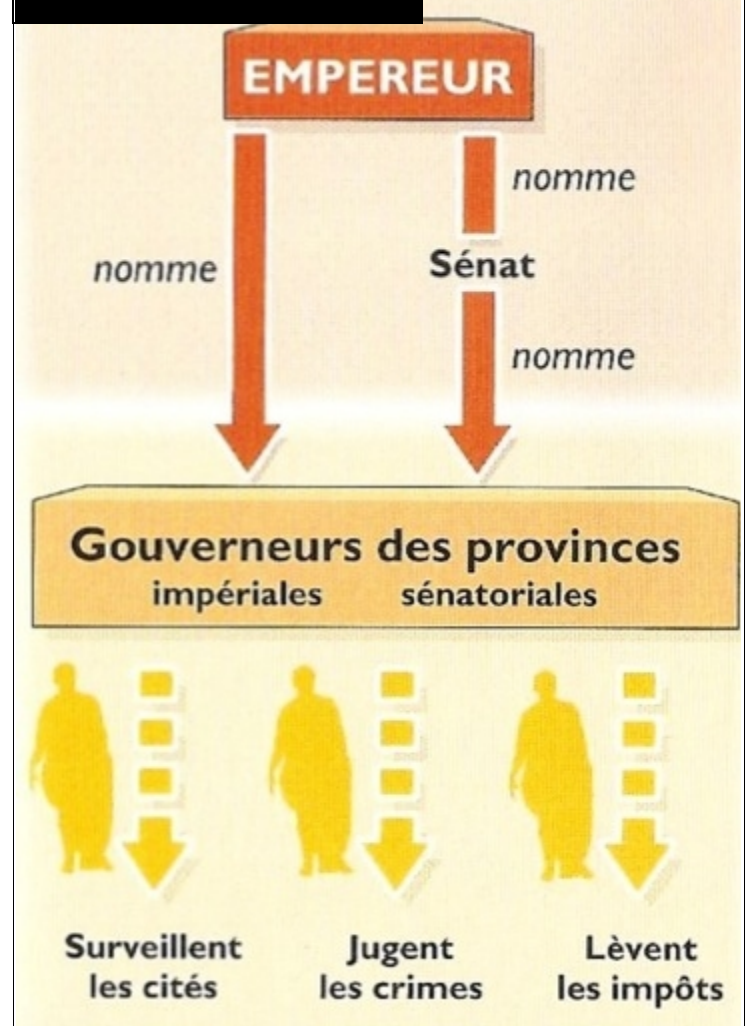
6. Ruine du *limes* (« Mur d'Hadrien »)

Ce mur fut construit entre 122 et 126 à la demande de l'empereur Adrien pour protéger la Bretagne (actuelle Grande Bretagne) des Scots.



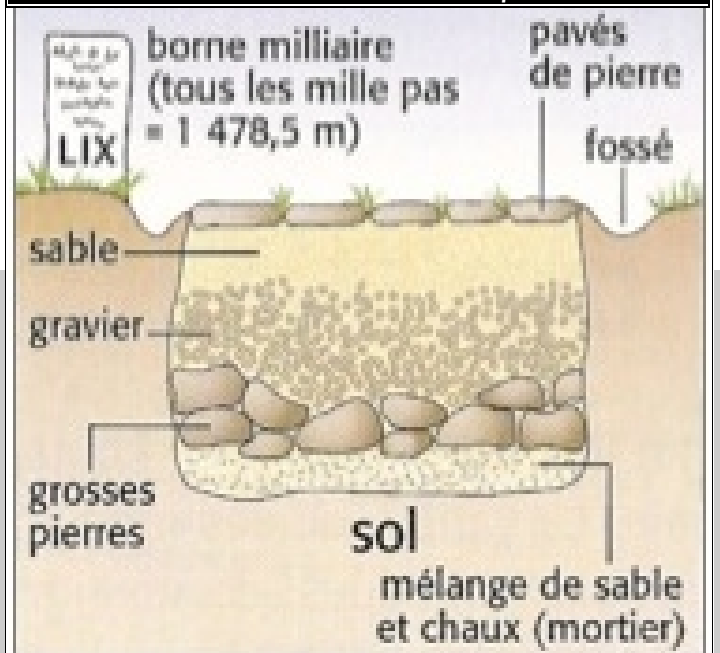
8. Une voie romaine. : la Via Appia .  
Construite en 312 an.n.e., la Via Appia est la première grande voie romaine. Elle partait de Rome et rejoignait le sud de l'Italie (Brindisi)

#### 7. Gouverner l'Empire



#### 9. schéma d'une voie romaine.

Les voies romaines étaient construites par l'armée.



## QUESTIONS :

(c.f. docs 6 & n°9. fiche 4 )

1) Qu'est-ce que le limes ?

2) Comment était-il protégé lorsque l'on redoutait des incursions « barbares » ?

(c.f. docs 7 & n°9 fiche 4)

3) Observe la carte de l'Empire romain au II<sup>e</sup> siècle et le doc.7 : comment l'empereur a-t-il organisé son vaste empire afin de mieux le diriger ? Qui l'aide ?

(c.f. docs 8 , n°9 et n°9 fiche 4 :)

4) Les voies romaines avaient deux fonctions : commerciales et militaires. Explique pourquoi.

5) Expliquer le dicton suivant ; « tous les chemins *mènent à Rome* ».

## RÉDIGER

**DÉCRIRE et DÉMONTRER** que l'organisation de l'empire favorise la paix et le commerce durant la période de la « paix romaine ».

## II. POURQUOI LA PAX ROMANA EST-ELLE LA PÉRIODE LA PLUS PROSÈRE DE L'EMPIRE ?

### C. COMMENT S'EXPLIQUE LA RICHESSE DES VILLAS GALLO-ROMAINE ?

## QUESTIONS :

1) Les deux parties d'une villa gallo-romaine s'appellent la ***pars urbana*** et la ***pars rustica*** : écrire ces termes dans les deux cases blanches .

2) Reproduire le tableau ci-dessous et y **CLASSER** les différents éléments qui composent une **villa gallo-romaine** .

3) **DÉCRIRE** puis **DÉFINIR** ce qu'est une **villa gallo-romaine**.

### **PARS URBANA**


partie résidentielle

### **PARS RUSTICA**

partie agricole

--	--

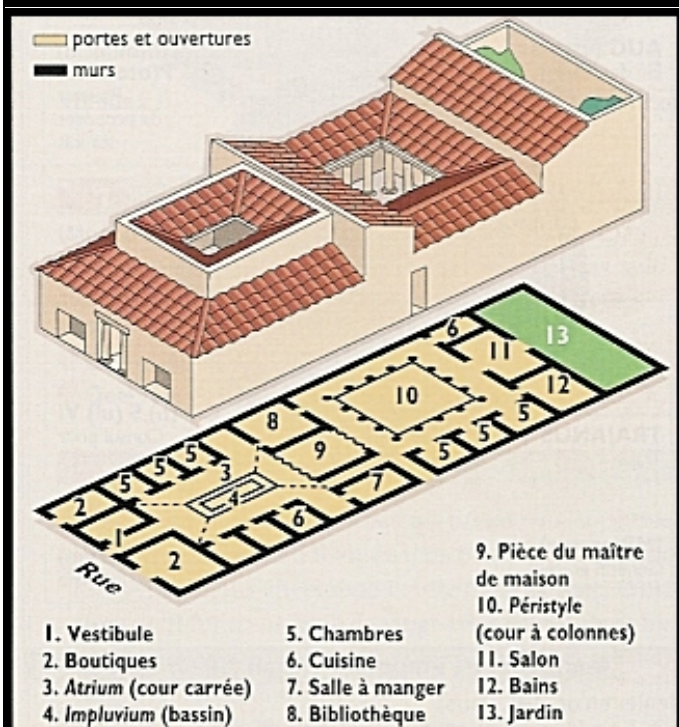
## LÉGENDE



- 1) **DOMUS**  
(maison du maître)
- 2) logement des esclaves de la maison
- 3) logement des esclaves du domaine
- 4) maison de l'intendant  
(s'occupe de la gestion du domaine)
- 5) granges, magasins
- 6) ateliers des artisans
- 7) étables, écuries
- 8) cour

### 10. maquette d'une villa gallo-romaine

(musée de Perthes, Abbeville)



### 12 Une domus

Organisée à l'origine autour de l'atrium, la maison romaine s'est agrandie par la suite.



### 11 Semaines et labours en Gaule

Mosaïque de Saint-Romain-en-Gal (Isère), III<sup>e</sup> siècle après J.-C., musée de Saint-Germain-en-Laye.

Avec la paix romaine, des domaines agricoles, les villas, appartenant à de riches notables, se multiplient dans les campagnes de l'Empire. Situés près de routes commerciales, ils vendent leurs produits aux villes, à l'armée ou à Rome.

